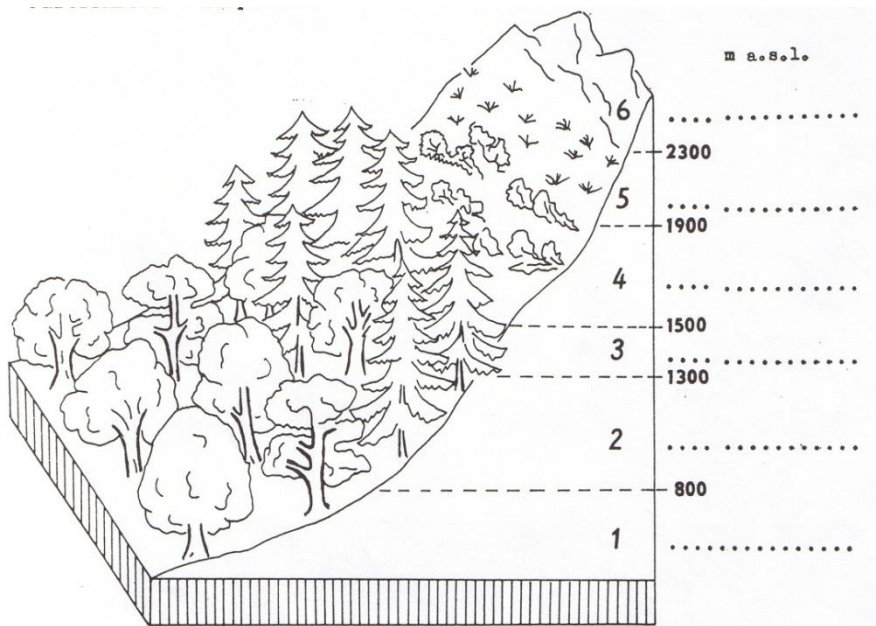


Vysoké pohoria

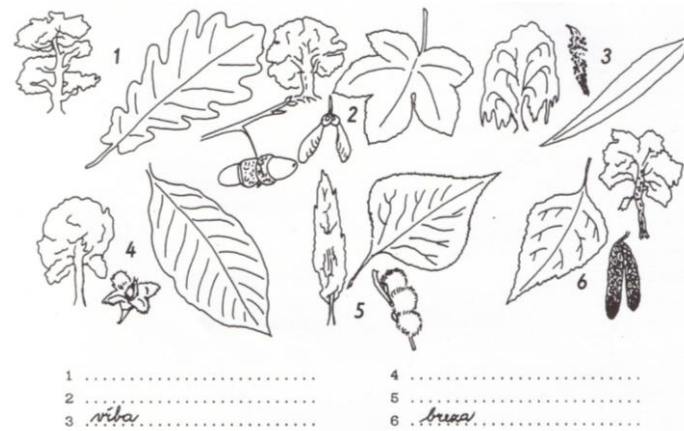
Najvyšší vrch sveta sa volá, leží v pohorí,
 meriam a rozprestiera sa na svetadiely..... V Euró-
 pe sa najvyšší vrch volá, meriam a leží v poho-
 rí Na Slovensku najvyšší vrch.....
 meria leží v pohorí Ameriku lemuje
 najdlhšie pohorie sveta, ktoré sa volá, s najvyšším vr-
 chom merajúcimm, ktorý leží
 v Amerike. V Afrike sa nachádza najvyšší vrch.....,
 ktorý meria m a leží v pohorí V Austrálii
 sa rozprestiera pohorie s najvyšším vrchom,
 ktorý meria m.

Pre vysoké pohoria platí pravidlo:

S narastajúcou nadmorskou výškou /vyber správnu odpoveď/ **klesá – stúpa** teplota
 a **klesá – stúpa** množstvo zrážok. Rastliny a živočíchy sa musia prispôbovať týmto
 zmenám teploty a množstvu zrážok a preto sa v pohoriach vytvorili poschodia, kto-
 ré voláme stupne. Doplň ich do obrázku:




V 1. a 2. stupni rastú dreviny, ktoré vytvárajú tzv.
 lesy. Do obrázku dopíš názvy stromov, ktoré sú na ňom nakreslené:



V týchto lesoch žijú tieto zvieratá:

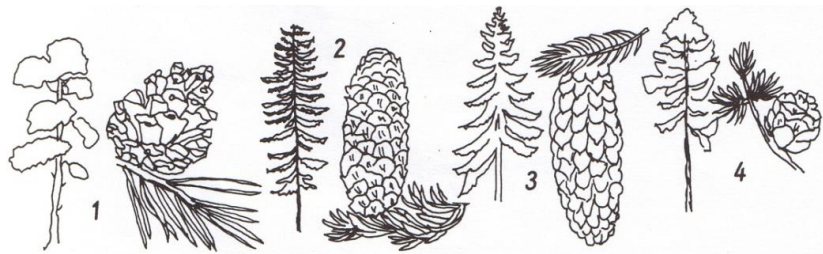
- v listnatých lesoch:



Dopíš ďalšie druhy zvierat žijúcich v listnatých lesoch:

.....


V 3. stupni rastú dreviny, ktoré vytvárajú lesy.
 Pomenuj dreviny týchto lesov v obrázku:



1 2
3 4 smrekovec

Žijú v nich tieto zvieratá:

- v ihličnatých lesoch:

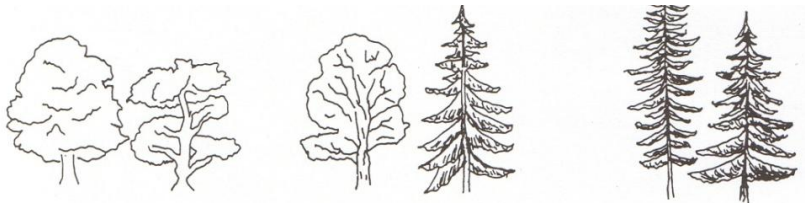


1 4
2 5
3 6

Doplň ďalšie druhy živočíchov žijúcich v ihličnatých lesoch:

.....
.....
.....

Medzi 1., 2. a 3. stupňom sa vyskytujú lesy. Pomenuj
vybrané lesy do obrázku:



.....


Vo 4. výškovom stupni rastie prevažne,
..... kosodreviny, a
V 5. stupni -, sa vyskytuje prevažne len
....., a 6. stupeň
..... - tvoria, často pokryté

Pomenuj výškovými stupňami príslušné obrázky:



1..... 2..... 3.....

Vo vysokých pohoriach žijú zvieratá:



Ďalšie druhy zvierat:
.....