

# Západná Európa. Írsko

## Základné údaje o západnej Európe:

- rozprestiera sa v blízkosti **Atlantického oceána** a jeho okrajových morí,
- je **najvyspelejšou** časťou Európy,
- povrch je rozmanitý,
- patrí do oceánskej podnebnnej oblasti mierneho podnebného pásma,
- má dostatok zrážok počas celého roka a menšie rozdiely medzi letnými a zimnými teplotami,
- väčšina štátov leží na pevnine, Spojené kráľovstvo a Írsko ležia na ostrovoch.

## Medzi štáty západnej Európy patrí:

- **Francúzsko,**
- **Monako,**
- **Belgicko,**
- **Holandsko,**
- **Luxembursko,**
- **Spojené kráľovstvo Veľkej Británie a Severného Írska,**
- **Írsko.**



Západná Európa

## Írsko

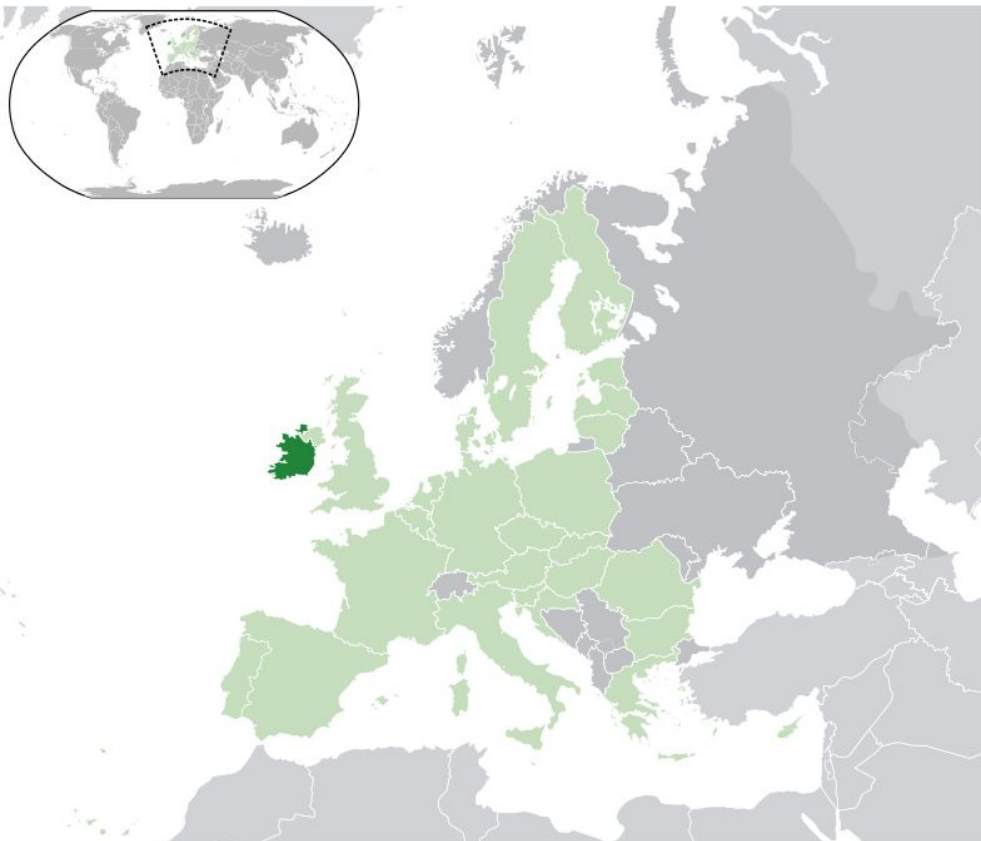
### Základné údaje:

- je **parlamentnou republikou, hlavou štátu je prezident,**
- hlavným mestom je **Dublin,**
- **leží na ostrove Írsko,**
- **zaberá päť šestín územia ostrova,**
- v minulosti bolo súčasťou Spojeného kráľovstva,
- prevažuje živočíšna výroba,
- dobre rozvinutý elektrotechnický priemysel, výroba spotrebnej elektroniky,
- vyniká výrobou alkoholu - whisky, pivo značky **Guinness,**
- krajina sa označuje ako **zelený** alebo **smaragdový** ostrov, čo vyjadruje veľké zastúpenie lúk a pasienkov a bujnú vegetáciu,
- symbolom krajiny je **trojlístok** - vyjadrenie jednoty troch pilierov kresťanstva - Otca, Syna a Ducha svätého,
- žije tu mnoho známych osobností modernej hudby,
- zachováva si svoje tradície v hudbe i tancoch,

- patrí medzi krajiny s **vysokou kvalitou života**,
- má veľmi vyspelý vzdelávací systém,
- je členom Európskej únie a OSN,
- patrí medzi ekonomicky najrozvinutejšie štáty Európy.

### Poloha a rozloha:

- rozkladá sa v západnej Európe,
- jeho západné brehy obmýva **Atlantický oceán**, východné brehy **Írske more**, na juhu **Keltské more**,
- hraničí na severe so **Severným Írskom**,
- jeho rozloha je 70,3 km<sup>2</sup>.



Poloha Írska

### Povrch a príroda:

- štát zaberajú **zväčša nížiny**,
- územím sa tiahnu aj pohoria, zväčša v pobrežných častiach,
- najvyšším vrchom je **Carrauntoohil** s nadmorskou výškou 1041 metrov nad morom,
- územím pretekajú veľké rieky – najdlhšou riekou je **Shannon**, ktorej tok je dlhý **380 kilometrov**,
- **väčšiu časť územia pokrývajú lúky a pasienky.**

### Podnebie:



- podnebie je ovplyvnené teplým Severoatlantickým morským prúdom, **mierne prímorské**,
- charakteristické sú slabé výkyvy teplôt,
- prevládajú mierne zimy a teplé letá.

### Mestá:

- **Dublin** – je hlavným a najväčším mestom Írska, je sídlom parlamentu, sídli tu Európsky parlament, je známe mnohými kultúrno-historickými pamiatkami, múzeami, známa je napríklad Dublinská mešita,
- **Cork** – je druhým najväčším mestom Írska, turisti sem prichádzajú za keltskými historickými pamiatkami a úchvatnou prírodou,
- **Waterford** – je ďalšie veľké mesto Írskej republiky, je významnou železničnou a dopravnou križovatkou, leží na juhovýchode krajiny.



Dublin - hlavné mesto Írska



Cork - druhé najväčšie mesto Írska s množstvom historických pamiatok

### **Nerastné bohatstvo, hospodárstvo a priemysel:**

- nerastné bohatstvo je malé,
- ťaží sa najmä **olovo, zinok, meď, rašelina, striebro, zemný plyn,**
- priemysel sa začal rozvíjať až po vstupe do Európskej únie,
- v popredí je **elektrotechnický priemysel** a výroba spotrebnej elektroniky - počítače a ich súčasti,
- výroba alkoholu - whisky, pivo známej značky **Guinness,**

- dobre rozvinutý aj **chemický, kovospracujúci, nábytkársky a potravinársky priemysel.**

### Poľnohospodárstvo:

- veľký význam má **živočíšna výroba**, zameraná najmä na **chov oviec a koní**,
- ovčiu vlnu vyvážajú do mnohých zemí,
- spracovanie poľnohospodárskych produktov,
- pestovanie zemiakov.

### Obyvateľstvo:

- počet obyvateľov je viac ako 4,5 milióna,
- úradným jazykom je írčina a angličtina,
- najviac obyvateľov vyznáva katolícke náboženstvo.

Zopakujte si:

1. Popíš polohu a rozlohu Írska.
2. S ktorou krajinou Írsko susedí a ktoré moria ho obmývajú?
3. Vymenuj významné írske mestá.
4. Čo vieš o priemysle a poľnohospodárstve Írska?
5. Popíš povrch a podnebie Írska.

Použitá literatúra:

Ružek. I., Likavský, P.: Geografia pre 8. ročník ZŠ a 3. ročník gymnázií s osemročným štúdiom. VKÚ, akciová spoločnosť, Harmanec, 2011. s. 61-73.

Zdroje obrázkov:

<http://commons.wikimedia.org/wiki/File:Western-Europe-map.png>

[http://en.wikipedia.org/wiki/Republic\\_of\\_Ireland](http://en.wikipedia.org/wiki/Republic_of_Ireland)

<http://en.wikipedia.org/wiki/Dublin>

[http://en.wikipedia.org/wiki/Cork\\_\(city\)](http://en.wikipedia.org/wiki/Cork_(city))